

AMERIQUE DU NORD 19 mai 2022

Partie A

Soit p la fonction définie sur l'intervalle $[-3 ; 4]$ par :

$$p(x) = x^3 - 3x^2 + 5x + 1$$

1. Déterminer les variations de la fonction p sur l'intervalle $[-3 ; 4]$.
2. Justifier que l'équation $p(x) = 0$ admet dans l'intervalle $[-3 ; 4]$ une unique solution qui sera notée α .
3. Déterminer une valeur approchée du réel α au dixième près.
4. Donner le tableau de signes de la fonction p sur l'intervalle $[-3 ; 4]$.


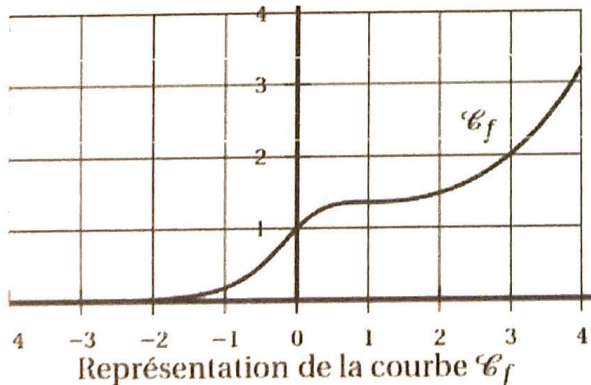
Partie B

Soit f la fonction définie sur l'intervalle $[-3 ; 4]$ par :

$$f(x) = \frac{e^x}{1+x^2}$$

On note \mathcal{C}_f sa courbe représentative dans un repère orthogonal.

1.
 - a. Déterminer la dérivée de la fonction f sur l'intervalle $[-3 ; 4]$.
 - b. Justifier que la courbe \mathcal{C}_f admet une tangente horizontale au point d'abscisse 1.
2. Les concepteurs d'un toboggan utilisent la courbe \mathcal{C}_f comme profil d'un toboggan. Ils estiment que le toboggan assure de bonnes sensations si le profil possède au moins deux points d'inflexion.



Vue de profil du toboggan

- a. D'après le graphique ci-dessus, le toboggan semble-t-il assurer de bonnes sensations ? Argumenter.
- b. On admet que la fonction f'' , dérivée seconde de la fonction f , a pour expression pour tout réel x de l'intervalle $[-3 ; 4]$:

$$f''(x) = \frac{p(x)(x-1)e^x}{(1+x^2)^3}$$

où p est la fonction définie dans la partie A.

En utilisant l'expression précédente de f'' , répondre à la question : « le toboggan assure-t-il de bonnes sensations ? ». Justifier.

Partie A

Soit p la fonction définie sur l'intervalle $[-3; 4]$ par :

$$p(x) = x^3 - 3x^2 + 5x + 1$$

1. Déterminer les variations de la fonction p sur l'intervalle $[-3; 4]$.

Pour tout $x \in [-3; 4]$, $p'(x) = 3x^2 - 3 \times 2x + 5 + 0$
 $= 3x^2 - 6x + 5$
 $\Delta = (-6)^2 - 4 \times 3 \times 5 = -24 < 0$ donc pas de racine réelle
donc $p'(x) > 0$ sur $[-3; 4]$ donc p strictement croissante sur $[-3; 4]$

2. Justifier que l'équation $p(x) = 0$ admet dans l'intervalle $[-3; 4]$ une unique solution qui sera notée α .

- p continue et strictement croissante sur $[-3; 4]$
 - $p(-3) = -68$
 - $p(4) = 37$
- } 0 est une valeur intermédiaire
∴ applique le corollaire du TVI : l'équation $p(x) = 0$ admet une unique solution α sur $[-3; 4]$

3. Déterminer une valeur approchée du réel α au dixième près.

Par dichotomie on trouve :

$$\alpha \approx -0,2$$

4. Donner le tableau de signes de la fonction p sur l'intervalle $[-3; 4]$.

x	-3	α	4
Signe de p	-	0	+

Partie B

Soit f la fonction définie sur l'intervalle $[-3; 4]$ par :

$$f(x) = \frac{e^x}{1+x^2}$$

On note \mathcal{C}_f sa courbe représentative dans un repère orthogonal.

1. a. Déterminer la dérivée de la fonction f sur l'intervalle $[-3; 4]$.

Pour tout $x \in [-3; 4]$


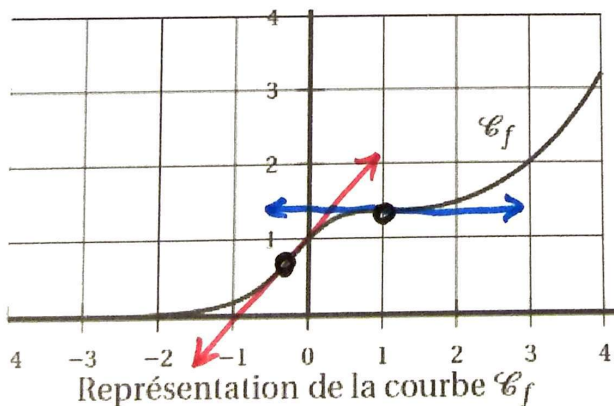
$$f'(x) = \frac{(e^x)(1+x^2) - (e^x)(2x)}{(1+x^2)^2} = \frac{e^x(1+x^2-2x)}{(1+x^2)^2}$$

- b. Justifier que la courbe \mathcal{C}_f admet une tangente horizontale au point d'abscisse 1.

Pour $x=1$, on veut savoir si $f'(x) = 0$

$$f'(1) = \frac{e^1(1+1^2-2 \times 1)}{(1+1^2)^2} = \frac{e^1 \times 0}{4} = 0$$

2. Les concepteurs d'un toboggan utilisent la courbe \mathcal{C}_f comme profil d'un toboggan. Ils estiment que le toboggan assure de bonnes sensations si le profil possède au moins deux points d'inflexion.



Vue de profil du toboggan

- a. D'après le graphique ci-dessus, le toboggan semble-t-il assurer de bonnes sensations ? Argumenter.

la courbe \mathcal{C}_f semble avoir 2 points d'inflexion (pour $x=1$ et pour $x \approx 0,2$)
donc le toboggan semble assurer de bonnes sensations.

